

Berechnen Sie den Inhalt der vom Graphen der gegebenen Funktion und der x-Achse eingeschlossenen Flächenstücke.

a) $y = x^2 - 5x + 4$

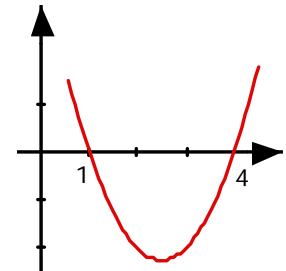
b) $y = x^3 - 2x^2 - 3x$

c) $y = x^4 - 10x^2 + 9$

a) $y = x^2 - 5x + 4$

Nullstellen bestimmen: $x^2 - 5x + 4 = (x - 1)(x - 4) = 0$

Nullstellen bei $x = 1$ und $x = 4$



Integral berechnen:

$$\int_1^4 (x^2 - 5x + 4) dx = \left[\frac{x^3}{3} - \frac{5x^2}{2} + 4x \right]_1^4 = \left(\frac{64}{3} - 40 + 16 \right) - \left(\frac{1}{3} - \frac{5}{2} + 4 \right) = -4.5$$

Das Integral ist negativ, weil die Fläche unterhalb der x-Achse liegt.

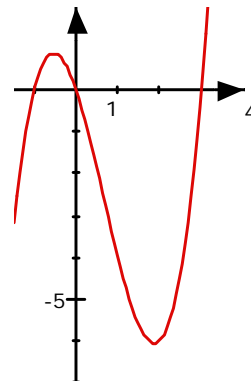
Der gesuchte Flächeninhalt ist: $A = 4.5$

b) $y = x^3 - 2x^2 - 3x$

Nullstellen bestimmen: $x^3 - 2x^2 - 3x = x(x^2 - 2x - 3) = x(x + 1)(x - 3) = 0$

Nullstellen bei $x = -1$, $x = 0$ und $x = 3$

Ein Teil der Fläche ist oberhalb, der andere Teil ist unterhalb der x-Achse. Die Integrale müssen dementsprechend getrennt berechnet werden!



Integrale berechnen:

$$\int_{-1}^0 (x^3 - 2x^2 - 3x) dx = \left[\frac{x^4}{4} - \frac{2x^3}{3} + \frac{3x^2}{2} \right]_{-1}^0 = 0 - \left(\frac{1}{4} + \frac{2}{3} - \frac{3}{2} \right) = \frac{7}{12}$$

$$\int_0^3 (x^3 - 2x^2 - 3x) dx = \left[\frac{x^4}{4} - \frac{2x^3}{3} + \frac{3x^2}{2} \right]_0^3 = \left(\frac{81}{4} - \frac{54}{3} - \frac{27}{2} \right) - 0 = -11 \frac{3}{12}$$

Der gesuchte Flächeninhalt ist: $A = \frac{7}{12} + 11 \frac{3}{12} = 11 \frac{5}{6}$

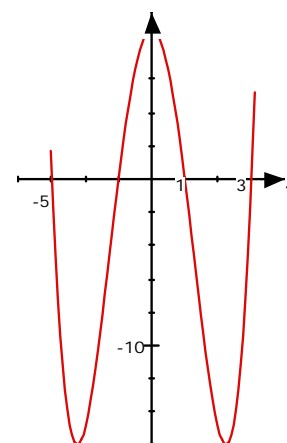
c) $y = x^4 - 10x^2 + 9$

Die Funktion ist gerade, der Graph achsensymmetrisch;
wir berechnen nur die rechte Hälfte!

Nullstellen:

$$\begin{aligned} x^4 - 10x^2 + 9 &= (x^2 - 9)(x^2 - 1) \\ &= (x + 3)(x - 3)(x + 1)(x - 1) = 0 \end{aligned}$$

Nullstellen bei $x = \pm 3$ und $x = \pm 1$



Integrale:

$$\int_0^1 (x^4 - 10x^2 + 9) dx = \left[\frac{x^5}{5} - \frac{10x^3}{3} + 9x \right]_0^1 = \left(\frac{1}{5} - \frac{10}{3} + 9 \right) - 0 = 5 \frac{13}{15}$$

$$\int_1^3 (x^4 - 10x^2 + 9) dx = \left[\frac{x^5}{5} - \frac{10x^3}{3} + 9x \right]_1^3 = \left(\frac{243}{5} - 30 + 27 \right) - 5 \frac{13}{15} = -20 \frac{4}{15}$$

Der gesuchte Flächeninhalt ist: $A = \left(5 \frac{13}{15} + 20 \frac{4}{15} \right) \cdot 2 = 52 \frac{4}{15}$