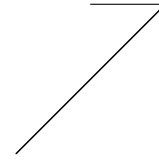
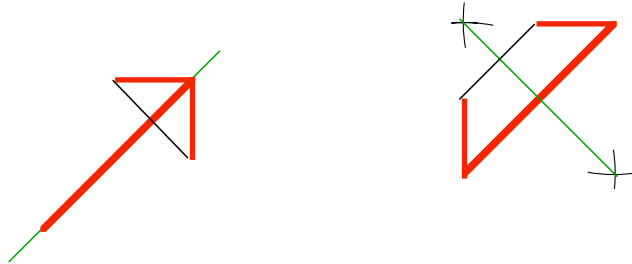


Ergänzen Sie die gegebene Figur möglichst sparsam zu einer Figur mit folgenden Eigenschaften:

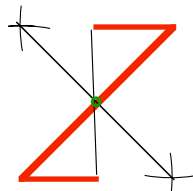
- a) genau eine Symmetrieachse
- b) nur punktsymmetrisch
- c) achsen- und punktsymmetrisch



- a) Sparsam: die längste Linie sollte zu sich selbst symmetrisch sein; damit erhalten wir zwei mögliche Symmetrieachsen.



- b) Sparsam: die längste Linie sollte zu sich selbst symmetrisch sein; damit erhalten wir als Zentrum den Mittelpunkt der längsten Strecke.



- c) Beides kombiniert

